



تمرین ریاضی

شمارش

باسمه تعالی

نام و نام خانوادگی : شماره : (6)

پایه : اول تاریخ :/...../..... شماره دانش آموز : « »




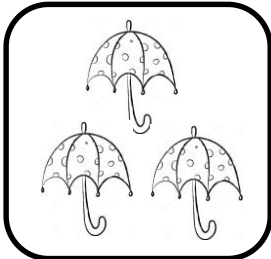



مؤسسه فرهنگی آموزشی تزکیه

دبستان دختران

سال تحصیلی 99-1400

۱- دختر خوبم با توجه به تعداد شکل ها سمت چپ و راست را به هم وصل کن.



۲- چتر و گل را بشمار و مانند نمونه، به تعداد هر کدام از مربع های مربوطه را رنگ بزن.