



## دفتر تکالیف مرور پایه چهارم ابتدایی

نام و نام خانوادگی:

نام آموزگار:

اردیبهشت ماه ۱۴۰۵



## مرور درس ۳۰ و ۳۱ فارسی پایه چهارم ابتدایی

مدت زمان مورد نیاز : ۳۰ دقیقه

تاریخ انجام : / / ۱۴۰۵

نام و نام خانوادگی :

نام آموزگار:



دلبندم به سوالات زیر با دقت پاسخ دهید .

۱- واژه هایی که زیر آن ها خط کشیده شده است ، معنی کنید .

بهار با رنگ نیلی ، گودال های کوچک و بزرگ ، درست کرد و غوک را در برکه نشانید .

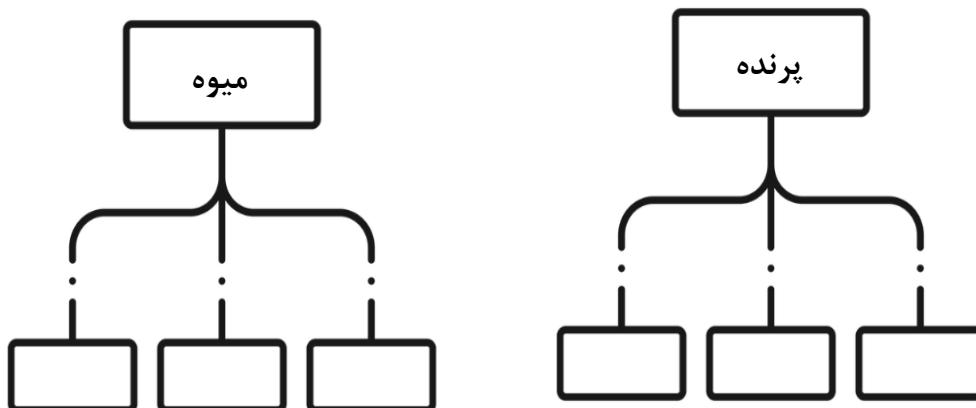
زمستان ، سطح رودخانه ها را با قشر نازکی از یخ برآق کرد و نقش و نگارهای خود را زیبا و

دل انگیز به پایان رساند.

۲- برای هر کلمه یک هم خانواده بنویسید .

مشغول ..... 	جمع ..... 	معتدل ..... 	نقش ..... 
اطراف ..... 	حاکم ..... 	سطح ..... 	طولانی ..... 

۳- با توجه به آموخته هایتان ، در هر نمودار کلمه های صحیح بنویسید.



۴- با توجه به معنای جمله ، کلمه‌ی مناسب را انتخاب کنید .

- برای به دست آوردن مساحت مستطیل به طول و ..... ( عرض - ارز ) مستطیل نیاز داریم .
- دانش آموزان در ..... ( حیات - حیاط ) مدرسه مشغول ورزش بودند .
- انسان دورو نزد دوستانش ..... ( خوار - خار ) می‌شود .



۵- جملات زیر را هر طور که دوست دارید ، کامل کنید .

- در این سفر طولانی .....
- پرستوها بهار و تابستان .....
- دنیایی که ما در آن زندگی .....

۶- شکل کوتاه واژه‌های زیر را بنویسید.

بیرون : ..... روباه : ..... راه : ..... اکنون :

۷- معنی جمله و بیت زیر را بنویسید .

گر خوش آواز بودی و خوش خوان      نبودی بهتر از تو در مرغان

خرگوش را میان جنگل و غوک رادر برکه نشانید .



۸- با موضوع " سیاره‌ی زمین " یک متن علمی بنویسید .

مرور درس ۱ و ۲ و ۳ و ۴ علوم تجربی پایه چهارم ابتدایی

نام و نام خانوادگی :

مدت زمان مورد نیاز : ۳۰ دقیقه

نام آموزگار :

تاریخ انجام : / / ۱۴۰۵



دلبندم به سوالات زیر با دقت پاسخ دهید .

۱- به نظر شما مردم جنوب ایران بهتر است اتومبیل های سفید رنگ بخرند یا تیره رنگ؟ چرا؟



۲- علی بعد از برگشتن از پارک به مادرش در آویزان کردن لباس های شسته شده کمک کرد.

پیش بینی کنید کدام لباس ها زودتر خشک خواهند شد لباس های تیره یا روشن؟ چرا؟



۳- مخلوط شربت خاکشیر یکنواخت است یا غیریکنواخت؟ چرا؟

۴- یک پژوهشگر بعد از جمع آوری اطلاعات چه کاری را انجام می دهد؟

۵- برای حل شدن سریع تر مواد حل شونده در حلال ، سه روش پیشنهاد دهید.

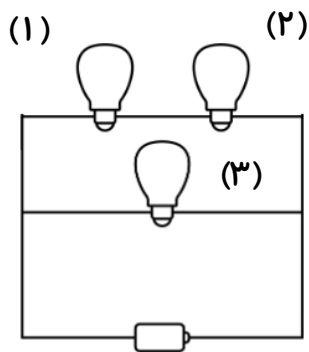


۶- انرژی حرکتی چیست؟ با مثال توضیح دهید.



۷- با توجه به مدار روبه رو به سوالات پاسخ دهید .

اگر لامپ (۱) خاموش شود ، در مدار چه اتفاقی می افتد؟



اگر لامپ (۲) و (۳) خاموش شود ، در مدار چه اتفاقی می افتد؟

۸- در چه کارهایی از انرژی گرمایی استفاده می شود؟ سه مورد.

۹- سه نمونه از کارهایی را که برای صرفه جویی و حفاظت از منابع انرژی انجام می دهید، بیان کنید.



۱۰- در موارد زیر کدام مخلوط و کدام محلول است ؟

شربت خاکشیر ..... عدس و لوبیا ..... سبزی خوردن .....  
الکل در آب ..... جوهر در آب ..... نشاسته در آب .....

۱۱- با استفاده از کلمات داده شده ، عبارات زیر را تکمیل کنید .

کم تر - متوالی - کاغذ - چوب خیس - می دهد - گرما - نور - موازی - نمی دهد - بیش تر

۱- آب جریان الکتریسته را از خود عبور .....

۲-.....رسانای الکتریسته نیست .

۳- در بخاری برقی ، انرژی الکتریکی به .....تبدیل می شود .

۴- با افزودن باتری ها در مدار متوالی ، نور لامپ ها ..... می شود .

۵-سیم کشی در منازل به صورت مدار ..... می باشد .



## مرور فصل اول ریاضی پایه چهارم ابتدایی

مدت زمان مورد نیاز : ۳۰ دقیقه

تاریخ انجام : / / ۱۴۰۵

نام و نام خانوادگی :

نام آموزگار:



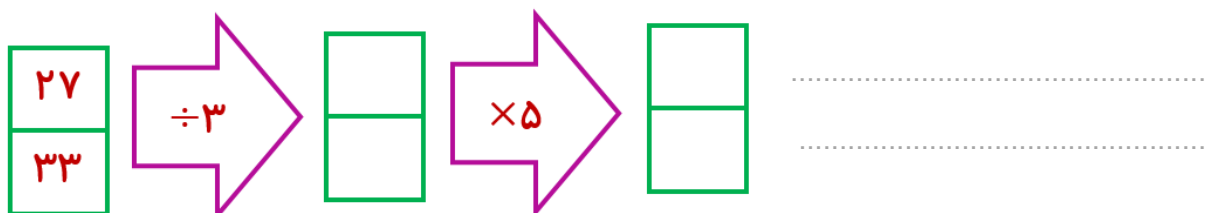
دلبندم به سوالات زیر با دقت پاسخ دهید .

۱- من چه عددی هستم  $\leftarrow$  عددی هشتم ۶ رقمی که صدگانم رقم ۵ و یکان هزارم ۲ است و در بالاترین مرتبه از من رقم ۸ قرار دارد و بقیه‌ی رقم‌هایم صفر است .

۲- بزرگ‌ترین عدد فرد شش رقمی با رقم‌های تکراری را بنویسید .

کوچک‌ترین عدد زوج هفت رقمی با رقم‌های غیر تکراری را بنویسید .

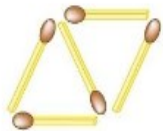
۳- ماشین ورودی - خروجی زیر را کامل کرده و کارش را توضیح دهید.



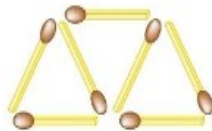
۴- در الگوی زیر شکل هفتم از چند چوب کبریت ساخته شده است؟ (با نوشتن رابطه)



شکل اول



شکل دوم



شکل سوم

۵- با توجه به عدد ۲۳۰۷۸۵۱۹۶ به سوالات زیر پاسخ دهید.  
الف) این عدد را در جدول ارزش مکانی قرار دهید.

میلیون			هزار					
ص	د	ی	ص	د	ی	ص	د	ی

ب) کدام رقم در بیشترین مرتبه قرار دارد؟.....

ج) ارزش مکانی رقم ۸ را بنویسید. ....


د) بزرگترین رقم چه ارزش مکانی دارد؟.....

هـ) این عدد را به حروف بنویسید. ....

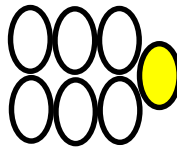
۶- به الگوی زیر توجه کنید و بگویید شکل صدم از چند دایره تشکیل می شود؟



(۱)



(۲)



(۳)



(۱۰۰)

۷- تساوی های زیر را کامل کنید.

$$۹۰۰۰۰۰۰ + ۷۰۰۰۰۰ + ۶۰۰۰ + ۳۰۰ + ۸ = \dots\dots\dots$$

$$۲۶۸۹۲۳ = \dots\dots\dots + \dots\dots\dots + \dots\dots\dots + \dots\dots\dots + \dots\dots\dots$$

۸- عدد « سی و دو میلیون و هشتصد و دو هزار و هفتصد و پنج » با رقم بنویسید .....

۹- الگوهای زیر را ادامه دهید .

۲ ، ۴ ، ۸ ، \_\_\_\_\_ ، \_\_\_\_\_

۴۷ ، ۴۰ ، ۳۳ ، \_\_\_\_\_ ، \_\_\_\_\_

۱۰- سپهر عدد ۹۳۲۰۰۴۱۸۵ را روی تخته‌ی کلاس نوشت ، معلّم از او خواست ۶ میلیون واحد به عددی که نوشته است ، اضافه کند .

الف) امیرمحمد برای انجام این کار کدام رقم ها را تغییر داده است؟.....

ب) عدد حاصل چند است ؟ آن را به حروف بنویسید . .....

مرور درس ۶۵ علوم تجربی پایه چهارم ابتدایی

نام و نام خانوادگی :

مدت زمان مورد نیاز : ۳۰ دقیقه

نام آموزگار :

تاریخ انجام : / / ۱۴۰۵




دلبندم به سوالات زیر با دقت پاسخ دهید .



۱- چرا حس لامسه تشخیص دقیقی از وضعیت دمایی یک جسم را نمی دهد؟

.....



۲- رسانای گرمایی و نارسانای گرمایی چیست؟ با مثال توضیح دهید .

.....

.....



۳- در هر مورد چه می کنید؟

- جلوگیری از انتقال گرما در تابستان از بیرون به داخل خانه

.....

- جلوگیری از انتقال گرما در زمستان از درون خانه به بیرون

.....



۴- این شکل چه نام دارد؟

.....

.....

بین دو جداره چه چیزی قرار دارد؟



۵- کدام ماده رسانایی گرمایی کمتری دارد؟ روزنامه - پارچه - هوا؟

.....

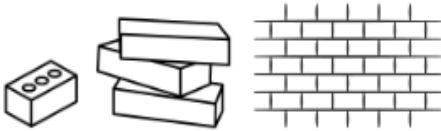


۶- سنگ ها به چند دسته ی تقسیم می شوند؟ نام ببرید.

۷- سنگ های آذرین چگونه تشکیل می شوند؟ با یک مثال توضیح دهید.



۸- چگونه از خاک نرم ، آجر سفت می سازند؟



۹- نام ببرید :

یک ماده ی غذایی که از سنگ به وجود می آید؟



یک فلز که از سنگ استخراج می شود؟

یک ماده که دیوارها را با آن سفید می کنند و از سنگ به وجود می آید؟

۱۰- با توجه به جملات صحیح یا غلط بودن آن ها را مشخص کنید.

- |                                 |                               |   |
|---------------------------------|-------------------------------|---|
| <input type="checkbox"/> نادرست | <input type="checkbox"/> درست | ۱- سنگ آهک یک نوع سنگ آذرین است .             |
| <input type="checkbox"/> نادرست | <input type="checkbox"/> درست | ۲- واحد اندازه گیری دما ، سانتی متر است .     |
| <input type="checkbox"/> نادرست | <input type="checkbox"/> درست | ۳- اندازه ی سنگ ها در مسیر رود تغییر می کنند. |
| <input type="checkbox"/> نادرست | <input type="checkbox"/> درست | ۴- مغز مداد از نوعی سنگ تشکیل شده است .       |
| <input type="checkbox"/> نادرست | <input type="checkbox"/> درست | ۵- سنگ پا یک نوع سنگ رسوبی است .              |

## مرور درس ۱ تا ۶ مطالعات اجتماعی پایه چهارم ابتدایی

مدت زمان مورد نیاز: ۳۰ دقیقه  
تاریخ انجام: / / ۱۴۰۵

نام و نام خانوادگی :  
نام آموزگار:



دلبندم به سوالات زیر با دقت پاسخ دهید .

۱- شما و خانواده‌ی شما چه ساعتی زباله‌های خود را در محلّ مخصوص خود قرار می‌دهید؟



۲- پیامبر گرامی (ص) درباره‌ی حقوق همسایه‌ها و رفتار با همسایگان چه فرموده‌اند؟



۳- با گذشت زمان چه تغییراتی در محلّه ایجاد می‌شود؟ (دو مورد).

۴- به نظر شما چگونه می‌توانیم از امکانات عمومی به طور مناسب استفاده کنیم؟



۵- چرا نباید همه‌ی پولی را که به دست می‌آوریم ، خرج کنیم؟

۶- راهنمای نقشه چه کمکی به ما می‌کند؟



۷- جملات زیر را با کلمات مناسب کامل کنید .

- عکس هوایی را با ..... از ..... می گیرند.

- شغل اصلی مردم عشایر ..... است.

- به شهرهایی که بیش از یک میلیون جمعیت دارند، شهرهای ..... می گوئیم.

- جهت فرعی بین دو جهت اصلی شمال و شرق ..... می باشد.

- بالاترین نقطه‌ی روی کره‌ی زمین ..... است .

- به جدولی که در آن درآمد، هزینه و پس انداز نشان داده شده است ..... می گوئیم.



۸- چهار مورد از پرجمعیت ترین شهرهای ایران را نام ببرید.

۹- با گردش در محله‌ی خود چه مکان هایی را مشاهده می کنید ؟ چهارمورد نام ببرید .

۱۰- دو مورد از تفاوت های زندگی شهری و روستایی را بنویسید.



۱۱- با توجه به تصویر مقابل جاهای خالی را پر کنید .

کتاب در سمت ..... پروانه قرار دارد.

توپ در سمت ..... پروانه قرار دارد.

ساعت در سمت ..... پروانه قرار دارد.

گل در سمت ..... مداد قرار دارد .

خرگوش در شمال ..... قرار دارد .

۱۲- جدول زیر را کامل کنید .

مرکز	استان	مرکز	استان
سنندج	.....	خراسان رضوی	.....
.....	گیلان	ارومیه	.....
.....	یزد	زنجان	.....

مرور درس ۱ تا ۵ هدیه‌های آسمان پایه چهارم ابتدایی

مدت زمان مورد نیاز: ۳۰ دقیقه  
تاریخ انجام: / / ۱۴۰۵

نام و نام خانوادگی :  
نام آموزگار:



دلبندم به سوالات زیر با دقت پاسخ دهید .

۱- اگر همه دندانها یک شکل بود چه می شد؟

.....




۲- خداوند مهربان چگونه از حضرت موسی (ع) پشتیبانی کرد؟ دو مورد.

.....

۳- تصور کنید یکی از همسایه های شما باعث ناراحتی شما شده است . با او چگونه رفتار می کنید؟

.....



۴- چهار مسجد مهم از مساجد اسلامی را نام ببرید .

.....

۵- خواندن نماز آیات در چه زمانی واجب می شود ؟ ۴ مورد

.....

۶- رسول خدا(ص) درباره‌ی آزار نرساندن به همسایه چه فرمودند؟

.....



۷- گزینه صحیح را در سوالات زیر با علامت × مشخص کنید.

- در مسیر رود نیل چه کسی صندوق را دنبال کرد؟

الف) مادر موسی (ع)      ب) خواهر موسی (ع)

ج) یکی از خدمتکاران      د) برادر حضرت موسی (ع)

- خانه‌ی خدا (کعبه) در کدام مسجد قرار دارد؟

الف) مسجدالاقصی      ب) مسجدالنبی

ج) مسجدالحرام      د) مسجد کوفه

- بهترین مکان برای خواندن نماز کجاست ؟

الف) حسینیه       ب) مسجد       ج) خانه       د) مدرسه

- چه کسی صندوق را از آب گرفت ؟

الف) خدمتکاران      ب) فرعون      ج) خواهر موسی (ع)      د) آسیه

- خداوند اهمیت احترام به همسایه را در حد احترام به ..... می‌داند .

الف) مادر       ب) پدر و مادر       ج) پیامبر       د) خدا

۸- با توجه به جملات صحیح یا غلط بودن آن‌ها را مشخص کنید.

- یکی از معجزات حضرت موسی (ع) تبدیل کردن عصا به اژدها است.  درستیست  نادرستیست

- برای تماشای تلویزیون صدای آن را باید بلند کنیم .  درست  نادرست

- پیام پیامبر درباره‌ی همسایه داری سه بار در مسجد تکرار شد .  درست  نادرست

- پاداش نماز فرادی با نماز جماعت یکسان است .  درست  نادرست

۹- با انجام دادن چه کارهایی می‌توانیم به سفارش پیامبر درباره همسایه عمل کنیم؟ دو مورد

.....

۱۰- نماز صبح با نماز آیات چه فرق‌هایی دارد؟

.....



## مرور فصل دوم ریاضی پایه چهارم ابتدایی

نام و نام خانوادگی :

مدت زمان مورد نیاز : ۳۰ دقیقه

نام آموزگار:

تاریخ انجام : / / ۱۴۰۵



دلبندم به سوالات زیر با دقت پاسخ دهید .

۱- روی محورهای زیر ، عددهای خواسته شده را نشان دهید و عدد مخلوط آن را بنویسید .



$\frac{1}{5}$  واحد بعد از عدد ۳



$\frac{2}{5}$  واحد مانده به عدد ۲

۲- کسرهای زیر را با هم مقایسه کنید .

$$\frac{4}{30} \square \frac{4}{40}$$

$$\frac{1}{5} \square \frac{40}{50}$$

$$\frac{2}{8} \square \frac{12}{32}$$

$$\frac{4}{8} \square \text{ نصف}$$



۳- ساعت روبه رو را به صورت عدد مخلوط ( دو نمونه ) بیان کنید .

۴- حاصل جمع و تفریق زیر را به کمک محور به دست آورید .

$$\frac{3}{6} + \frac{2}{6} =$$

\_\_\_\_\_


$$\frac{6}{9} - \frac{2}{8} =$$

\_\_\_\_\_

۵- یک نقاش  $\frac{4}{5}$  از یک دیوار را می‌خواهد رنگ سبز کند ، اگر او تا حالا  $\frac{13}{25}$  از دیوار را رنگ سبز کرده باشد ، چه کسر دیگری از دیوار را باید رنگ کند؟



۶- با استفاده از شکل ، دو کسر مساوی برای کسر زیر بنویسید .



$$\frac{6}{18} = \frac{\quad}{\quad} = \frac{\quad}{\quad}$$

۷- با رسم شکل برای کسر  $\frac{2}{3}$  یک کسر مساوی بنویسید که مخرج آن چهار برابر مخرج کسر داده شده باشد .

۸- در جاهای خالی ، عددهای مناسب بنویسید تا کسر ها با هم برابر شوند .

$$\frac{8}{20} = \frac{\square}{40}$$

$$\frac{1}{3} = \frac{\square}{33}$$

$$\frac{40}{80} = \frac{20}{\square}$$

۹- کسر های زیر را تا جایی که امکان دارد ساده کنید .

$$\frac{12}{48} =$$

$$\frac{36}{90} =$$

$$\frac{49}{70} =$$

۱۰- حاصل عبارات زیر را به دست آورید .

$$\left(3 \times \frac{2}{8}\right) - \frac{5}{40} =$$

$$\left(2 \times \frac{2}{10}\right) + \left(3 \times \frac{2}{10}\right) =$$

$$\frac{52}{64} - \frac{6}{8} =$$

مرور درس ۷ و ۶ و ۴ فارسی پایه چهارم ابتدایی

مدت زمان مورد نیاز : ۳۰ دقیقه

تاریخ انجام : / / ۱۴۰۵

نام و نام خانوادگی :

نام آموزگار :



دلبندم به سوالات زیر با دقت پاسخ دهید .

۱- پیام این جمله چیست ؟

بیاموزید ، آنچه آموختنی است و به دست آورید ، آنچه را ماندنی است.



۲- هر کلمه را با متضاد (مخالف) آن هم‌رنگ کنید .



۳- کلمه های زیر را به ترتیب حروف الفبا مرتب کنید .

غوغا - طلوع - خلاصه - مشتاق - خنکی - گلستان - استقبال

۴- جمله های زیر را ادامه دهید .

روزنامه نوشته ای است که .....

کارنامه نوشته ای است که .....

خودخواه : به کسی می گویند که .....



مرور درس ۷ تا ۱۰ مطالعات اجتماعی پایه چهارم ابتدایی

مدت زمان مورد نیاز: ۳۰ دقیقه

تاریخ انجام: / / ۱۴۰۵

نام و نام خانوادگی:

نام آموزگار:



دلبندم به سوالات زیر با دقت پاسخ دهید.

۱- دانش جغرافیا چه کمکی به ما می‌کند؟



۲- شش مورد از وسایلی که جغرافی دانان استفاده می‌کنند، نام ببرید.

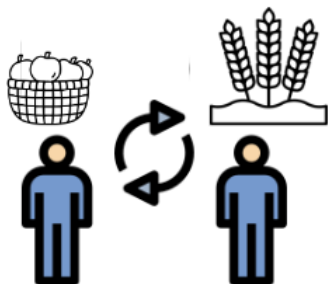


۳- اولین روستاها چگونه به وجود آمد؟



۴- کشف آتش چه تغییری در زندگی انسان‌ها بوجود آورد؟ سه مورد

۵- مبادله‌ی کالا به کالا یعنی چه با مثال توضیح بدهید؟



۶- مردم ایلام به چه کارهایی مشغول بوده‌اند؟ (۴ مورد)

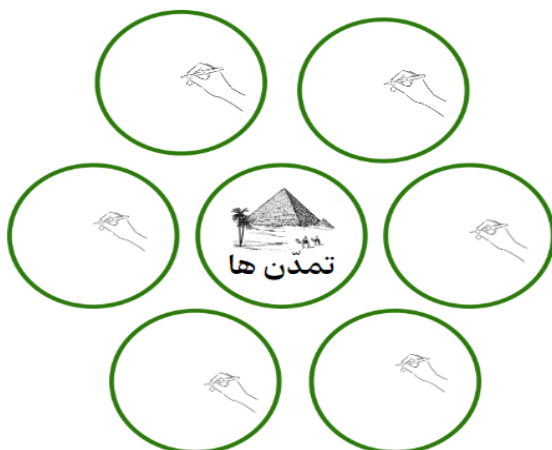


۷- دانش تاریخ چه کمکی به ما می‌کند؟

۸- به چه کسی باستان شناس گفته می‌شود؟



۹- تمدن‌ها چه ویژگی‌هایی داشتند؟



۱۰- چه عاملی زمینه را برای اختراع خط فراهم کرد؟



۱۱- جملات زیر را با کلمات مناسب کامل کنید.

- معمولاً اشیاء و آثار تاریخی و باستانی را در ..... نگه داری می‌کنند.
- انسان‌ها برای اینکه از حمله‌ی حیوانات در امان بمانند به ..... پناه بردند.
- در خط ..... برای نوشتن هر چیز شکل آن را می‌کشیدند.
- آثار تاریخی به این دلیل ارزشمند هستند که زندگی ..... را نشان می‌دهند.
- اداره‌ی سرزمین‌ها در زمان پیدایش تمدن‌ها به عهده ..... بود.
- پایتخت تمدن ایلام شهر ..... بوده است.

مرور درس ۶ و ۷ و ۸ و ۹ هدیه های آسمان پایه چهارم ابتدایی

نام و نام خانوادگی :

مدت زمان مورد نیاز : ۳۰ دقیقه

نام آموزگار :

تاریخ انجام : / / ۱۴۰۵



دلبندم به سوالات زیر با دقت پاسخ دهید .

۱- براساس آیهی " وَ الْكَافِرِينَ الْغَائِبِينَ وَالْعَافِينَ عَنِ النَّاسِ " نیکوکاران چه ویژگی هایی دارند ؟

.....

۲- امام موسی کاظم (ع) چندمین امام است و نام پدر ایشان چیست؟

.....

۳- اگر کسی ما را عصبانی کرد ، چگونه با او رفتار می کنیم؟

.....

۴- در چه مواردی می توانیم تیمم کنیم؟ سه مورد

.....

۵- مأمون برای دور کردن امام رضا (ع) از مردم چه کرده بود؟

.....

۶- امام جواد(ع) در چه سنی به امامت رسیدند و در چه سنی به شهادت رسیدند؟

.....

۷- زیارت یعنی چه؟ شما تا به حال به زیارت کدام امامان رفته اید ؟

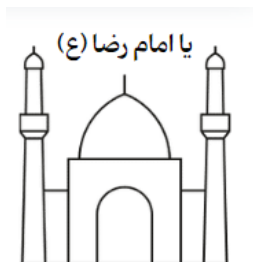
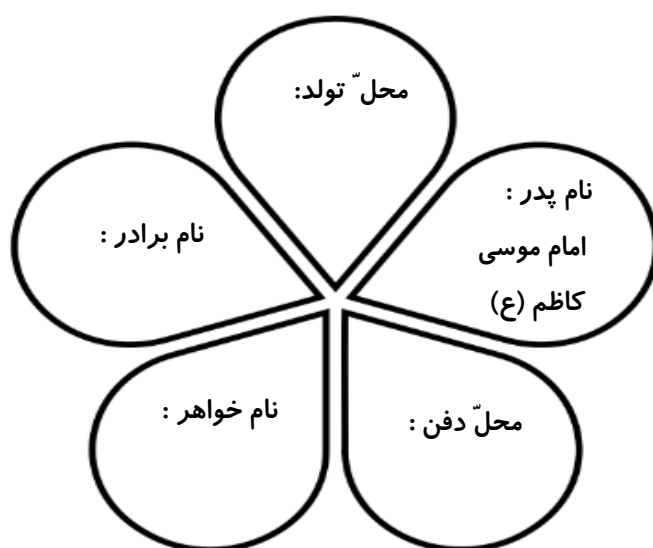
.....



۸- دو لقب امام محمد تقی(ع) را نام ببرید و معنی آن را بگویید

۹- سخن امام رضا (ع) را در مورد زیارت آن امام بزرگوار بیان کنید.

۱۰- گلبرگ‌های زیر در مورد امام رضا (ع) ، مانند نمونه کامل کنید .



۱۱- جاهای خالی را با کلمات مناسب پر کنید .

۱- یکی از لقب های امام رضا (ع) ..... به معنی مهربان است .

۲- دعبل ..... مشهور زمان امام رضا(ع) است .

۳- در تیمم دست ها را از ..... تا روی ابروها می کشیم .

۴- مرقد خواهر امام رضا (ع) ، حضرت معصومه(س) در شهر ..... قرار دارد.

۵- امام موسی کاظم (ع) ..... سال را در زندان سپری کردند .

۶- حرم امام حسین (ع) در شهر ..... است .

۷- بر طبق سخن امام نهم هم نشینی با خوبان موجب ..... می شود.

## مرور فصل سوم ریاضی پایه چهارم ابتدایی

مدت زمان مورد نیاز: ۴۰ دقیقه

تاریخ انجام: / / ۱۴۰۵

نام و نام خانوادگی:

نام آموزگار:



دلبندم به سوالات زیر با دقت پاسخ دهید.

۱- در جای خالی همه ی رقم هایی که نامساوی زیر درست می شود را بنویسید .

$$\square \times 8 < 76$$


کدام رقم نوشته شده را قرار بدهید ، حاصل آن نزدیکترین عدد به ۷۶ می شود؟

۲- حاصل ضرب های زیر را بدست آورید .

$$\begin{array}{r} 78 \\ \times 65 \\ \hline \end{array}$$

$$\begin{array}{r} 502 \\ \times 235 \\ \hline \end{array}$$

$$\begin{array}{r} 2300 \\ \times 3200 \\ \hline \end{array}$$



۳- تقسیم های زیر را انجام دهید و رابطه های هر تقسیم را بنویسید.

آیا مقسوم بر مقسوم علیه بخش پذیر است؟ چرا؟

$$\begin{array}{r} 569 \\ 4 \overline{) } \\ \hline \end{array}$$

$$\begin{array}{r} 3332 \\ 34 \overline{) } \\ \hline \end{array}$$

----- < -----

----- < -----

----- x ----- + ----- = -----

----- x ----- + ----- = -----

۴- عددهای زیر را با تقریب خواسته شده، به صورت تقریبی بنویسید.

$5673 \xrightarrow[\text{صدگان}]{\text{تقریب در}} \dots\dots\dots$ 
 $9373 \xrightarrow[\text{هزارگان}]{\text{تقریب در}} \dots\dots\dots$ 
 $373 \xrightarrow[\text{دهگان}]{\text{تقریب در}} \dots\dots\dots$



۵- یک اتوبوس در هر ساعت تقریباً ۸۵ کیلومتر را طی می‌کند. اگر فاصله‌ی بین دو شهر ۷۶۵ کیلومتر باشد، اتوبوس در چند ساعت این مسیر را طی می‌کند؟

۶- حاصل تقریبی ضرب‌ها را به دست آورید.

$$\begin{array}{r}
 376 \rightarrow \\
 \times 235 \rightarrow \\
 \hline
 \end{array}
 \quad
 \times
 \quad
 \begin{array}{r}
 726 \rightarrow \\
 \times 295 \rightarrow \\
 \hline
 \end{array}$$

۷- با توجه به عددهای زیر به سوالات پاسخ دهید.

$31 - 24 - 65 - 98 - 460 - 35 - 256 - 755 - 123$

کدام عددها بر ۲ بخش پذیرند؟ .....

کدام عددها بر ۵ بخش پذیرند؟ .....

۸- هر یک از جرم‌های زیر به طور تقریبی چند تن است؟



.....



.....

مرور درس ۱۲ و ۱۱ فارسی پایه چهارم ابتدایی

مدت زمان مورد نیاز: ۳۰ دقیقه  
تاریخ انجام: / / ۱۴۰۵

نام و نام خانوادگی:  
نام آموزگار:



دلبندم به سوالات زیر با دقت پاسخ دهید.

- ۱- هم معنی کلمه هایی که زیر آن ها خط کشیده شده است را بنویسید.
- ◆ به دنبال راه های تازه‌ای برای بهتر زیستن بودم. (.....)
  - ◆ هر شب به اندیشه‌های دور و درازی فرو می‌رفتم. (.....)
  - ◆ نزد پدرم شاگردی کردم تا حرفه‌ی او را بیاموزم. (.....)
  - ◆ آن وقت ها ، هنوز مدرسه های امروزی دایر نشده بود. (.....)
  - ◆ قنادی رونقی نداشت و زندگی به سختی می‌گذشت. (.....)
  - ◆ ولی هیچ یک از این کارها طبع پرشور و ذهن جویای مرا راضی نمی‌کرد. (.....)

- ۲- مفهوم جمله‌ی زیر را بنویسید.  
آتش بارهای عراقی، یک دم خاموش نمی شدند.
- .....

- ۳- برای هر کلمه ، کلمه ای بنویسید که آن را توصیف کند (صفت).  
کتاب ..... خانه‌ی ..... دوست ..... کشور .....

- ۴- نمودار جمله های زیر را رسم کنید.  
مادر بزرگ مهربانم آمد.  
دانش آموزان زرنگ خندیدند.



- ۵- برای هر کلمه یک هم خانواده را بنویسید.

متجاوز : ..... شوق : ..... صبر : .....  
مانع : ..... مظلوم : ..... محتاج : .....

۶- در جاهای خالی کلمه‌های مناسب قرار دهید. سپس معنی ترکیب جدید را بنویسید.

سرباز شکست + ناپذیر : ..... یعنی سربازی که .....  
داستان باور + ناپذیر : ..... یعنی داستانی که .....

۷- در جمله ی " یک قطره از دل من بر روی دفتر افتاد " منظور از قطره چیست ؟

۸- هر واژه را در یک جمله بکار ببرید.

فرماندهان:


خستگی ناپذیر :

۹- در هر جمله ، زیر واژه هایی که اسم قبل از خود را توضیح می دهند ، خط بکشید .

- مادر مهربان فرزند خود را به آغوش می کشد .

- فرزندان کوشای ایران آینده سازان مملکت هستند .

۱۰- هر کلمه را با متضاد (مخالف) آن هم‌رنگ کنید .



۱۱- معنی بیت زیر را بنویسید .

علی ای همای رحمت ، تو چه آیتی خدا را      که به ماسوا فکندی همه سایه‌ی هما را

## مرور فصل چهارم ریاضی پایه چهارم ابتدایی

مدت زمان مورد نیاز: ۳۰ دقیقه

تاریخ انجام: / / ۱۴۰۵


نام و نام خانوادگی:

نام آموزگار:

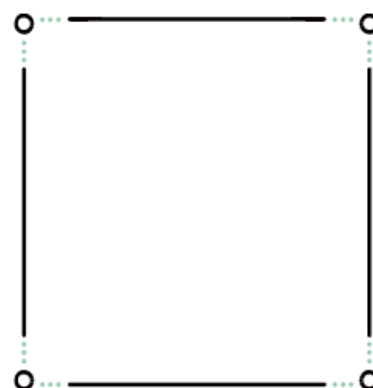


دلبندم به سوالات زیر با دقت پاسخ دهید.

۱- یک زاویه‌ی ۱۵۰ درجه و یک زاویه‌ی ۵۸ درجه رسم کنید.



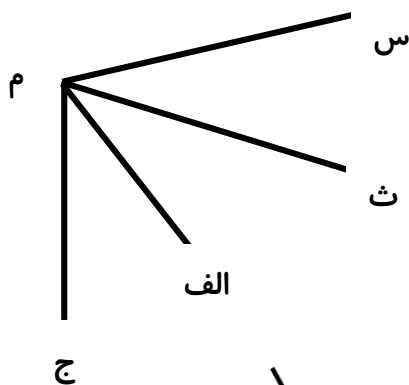
۵۸ درجه



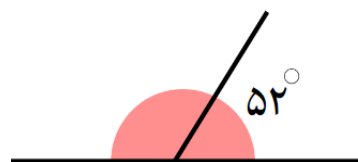
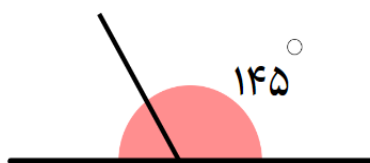
۱۵۰ درجه

۲- در شکل زیر می‌خواهیم تمام زاویه‌ها را نام ببریم.

از روش الگوسازی استفاده کنید و تمام زاویه‌ها را نام ببرید.



۳- اندازه‌ی زاویه‌های خواسته شده را به دست آورید.



۴- زمان‌های زیر را به صورت تقریبی بنویسید.

(ب) ۵۹ ثانیه و ۴ دقیقه = .....

(الف) ۸ ساعت و ۴ دقیقه = .....

(د) ۱۲ ساعت و ۴۸ دقیقه = .....

(ج) ۹ دقیقه و ۳۲ ثانیه = .....

۵- جاهای خالی را با کلمات مناسب کامل کنید.

اندازه هر زاویه تند از ..... درجه کم تر است .

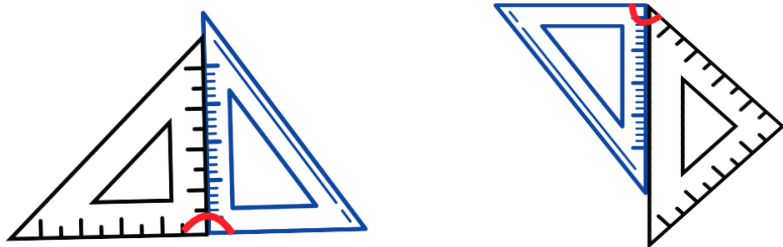
اندازه هر زاویه باز از ..... درجه بیشتر و از ..... درجه کمتر است .

بهترین وسیله برای تشخیص زاویه ی قائمه ..... است.

اگر فاصله بین دو ضلع زاویه را زیاد کنیم اندازه زاویه ..... می شود .

۶- یک زاویه ی قائمه را به دو قسمت تقسیم کرده ایم . اگر یکی از زاویه های آن ۴۳ درجه باشد . زاویه ی دیگر چند درجه است؟

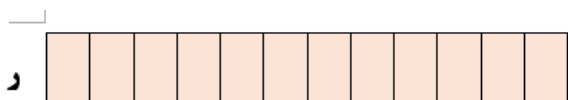

۷- با توجه به دو نوع گونیای داده شده ، اندازه ی زاویه هایی را که از کنارهم قرار گرفتن آن ها ساخته می شود، به دست آورید.



۸- زمان های زیر را مقایسه کرده و علامت  $< = >$  قرار دهید.

۴ ساعت	<input type="checkbox"/>	۲۵۸ دقیقه
۴۸۰۰ ثانیه	<input type="checkbox"/>	دو ساعت و ۲۰ دقیقه
۶۷۲ ساعت	<input type="checkbox"/>	۴ هفته
۱۴۶۴ ساعت	<input type="checkbox"/>	۶۰ روز

۹- یک مغازه دار هر روز صبح ساعت ۸:۲۰ مغازه خود را باز می کند . اگر خانه ی او تا مغازه ۵۰ دقیقه راه باشد . او هر روز چه ساعتی از منزل خارج می شود؟ ( با رسم نمودار زمان )



۱۰- با توجه به شکل به سوالات زیر پاسخ دهید



طول نوار ( ر ) چند برابر طول نوار ( ش ) است ؟

طول نوار ( ش ) چه کسری از نوار ( ر ) است ؟

مرور درس ۱۱ تا ۱۴ اجتماعی پایه چهارم ابتدایی

مدت زمان مورد نیاز: ۴۰ دقیقه  
تاریخ انجام: / / ۱۴۰۵

نام و نام خانوادگی :  
نام آموزگار:



دلبندم به سوالات زیر با دقت پاسخ دهید .

۱- در مورد آریایی ها هر چه می دانید ، بنویسید.

.....  
.....

۲- چرا مادها نمی توانستند جلوی حمله ی آشوری ها را بگیرند ؟ برای رفع آن چه کردند؟



۳- حکومت مادها چگونه تشکیل شد؟

.....

۴- گنج نامه در کدام استان واقع شده و سنگ نبشته های آن به چه زبان و خطی می باشد؟

.....

۵- کوروش از چه قومی بود و چه حکومتی تشکیل داد؟



.....

۶- داریوش که بود ؟ چهارمورد از اقدامات او را بنویسید .

.....

۷- به چه دلیل داریوش دستور داد تا ایران به بخش های مختلف تقسیم شود؟

.....

۸- حکومت ساسانیان چگونه به وجود آمد؟



۹- دو مورد از ویژگی های تخت جمشید را بنویسید ..

۱۰- دلایل از بین رفتن ساسانیان و ورود اسلام به ایران را بنویسید . سه مورد



۱۱- چند سوغاتی کرمانشاه را نام ببرید.

۱۲- سلوکیان که بودند و در ایران چه کردند؟



۱۳- آریوبرزن که بود و چه کرد؟

۱۴- سه پایه‌ی اصلی دین زرتشت را نام ببرید .

۱۵- در جاهای خالی کلمات مناسب بنویسید.

- ◆ مهم ترین و طولانی ترین راه در زمان داریوش، ..... نام داشت.
- ◆ پادشاهان هخامنشی ..... را به عنوان پایتخت تابستانی انتخاب کرده بودند.
- ◆ حکومت ..... توسط اسکندر مقدونی از بین رفت .
- ◆ در ایران باستان بیشتر مردم پیرو دین ..... بودند.
- ◆ هخامنشیان بیش از ..... سال بر ایران حکومت کردند .
- ◆ پارت ها در ..... و ..... و ..... بسیار ماهر بودند .
- ◆ شاپور اول از شاهان قدرتمند اشکانی توانست بر.....
- ◆ پیروز شود و ..... را اسیر کند.

مرور درس ۸ و ۷ علوم پایه چهارم ابتدایی

مدت زمان مورد نیاز: ۴۰ دقیقه  
تاریخ انجام: / / ۱۴۰۵


نام و نام خانوادگی:  
نام آموزگار:



دلبندم به سوالات زیر با دقت پاسخ دهید.

۱- آیا خاصیت آهن ربایی در همه جای آهن ربا یکسان است؟

توضیح دهید.



۲- ما چه کمکی می‌توانیم بکنیم تا بازیافت زباله‌ها راحت‌تر و بهتر انجام شود؟



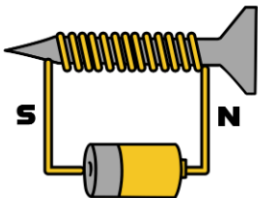
۳- این دو آهن‌ربا چه اثری بر یکدیگر دارند؟




۴- نام این وسیله چیست؟ چه کاربردی دارد؟



۵- قدرت آهن ربای الکتریکی به چه چیزهایی بستگی دارد؟



۶- منظومه‌ی شمسی را تعریف کنید.



۷- هشت مورد از سیارات شناخته شده‌ی منظومه‌ی شمسی را به ترتیب نزدیکی به خورشید نام ببرید.

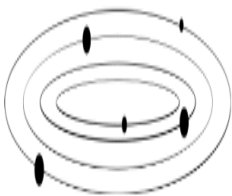


۸- سه مورد از خصوصیات زمین را بنویسید.



۹- سه راه مراقبت از سیاره‌ی ای که در آن زندگی می‌کنیم را بنویسید.

۱۰- چرا سیارات در منظومه‌ی شمسی به یکدیگر برخورد نمی‌کنند؟



۲- جاهای خالی را کامل کنید.

هر چقدر تعداد باتری‌ها را در آهنربای الکتریکی بیشتر کنیم، آهنربای ما ..... می‌شود.  
به نوری که ماه از خود بازتاب می‌کند ..... می‌گویند.  
در مسافرت‌های دریایی و هوایی برای تعیین مسیر حرکت، از ..... استفاده می‌کنند.  
گردش ماه به دور زمین در حدود ..... هفته طول می‌کشد.  
سردترین سیاره منظومه‌ی شمسی ..... است.  
گرمترین سیاره‌ی منظومه‌ی شمسی ..... نام دارد.  
به مسیر گردش سیاره به دور خورشید ..... می‌گویند.  
سیاره‌ی ..... به سیاره‌ی سرخ مشهور است.  
از یک دور گردش هر سیاره به دور خورشید ..... به وجود می‌آید.

مرور درس ۱۳ و ۱۴ و ۱۵ فارسی پایه چهارم ابتدایی

مدت زمان مورد نیاز: ۴۰ دقیقه

تاریخ انجام: / / ۱۴۰۵

نام و نام خانوادگی:

نام آموزگار:



دلبندم به سوالات زیر با دقت پاسخ دهید .

۱- با توجه به درس «ادب از که آموختی؟» جاهای خالی را کامل کنید .



مُشک آن است که خود ..... ، نه آن که ..... بگوید .

یکی را گفتند: «عالم ..... به چه ماند؟ گفت: به .....

علم چندان که ..... خوانی چون عمل در تو نیست

۲- معنی این قسمت از درس را به فارسی روان بنویسید .

دانا چو طبله‌ی عطار است ، خاموش و هنرنمای و نادان چون طبل غازی ، بلند آواز و میان تهی

.....  
.....

۳- کلمه هایی بنویسید که آهنگ آنها مانند واژه های داده شده باشد . (هم قافیه )

آشفته : ..... موش : ..... غازی : ..... دندان : .....

۴- در جاهای خالی کلمه های مناسب قرار دهید . سپس معنی ترکیب جدید را بنویسید .

گل + زار : ..... یعنی جایی که .....

نمک + زار : ..... یعنی جایی که .....

چمن + زار : ..... یعنی جایی که .....

۵- هر یک از کلمات ( دمادم - لبالب - گرداگرد ) را در جای مناسب خود بنویسید .

وارد حرم امام حسین (ع) شدیم . داخل حرم ..... از جمعیت مردم بود که ..... حرم

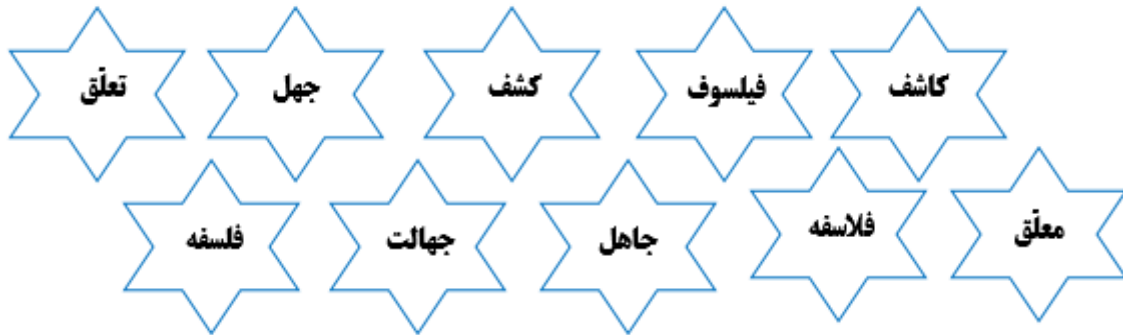
حلقه زده بودند و دعا می خوانند . وقتی به ضریح آقا نزدیکی شدیم .

مردمی را دیدیم که ..... صلوات می فرستادند .

۶- با خواندن شعر شیر و موش چه نتیجه ی اخلاقی گرفتید؟  
آن را در دو جمله بیان کنید .



۷- کلمات هم خانواده را هم رنگ کنید.



۸- در بیت زیر " سیلاب " و " موج " به چه چیزی تشبیه شده اند .  
سطح آب از گاهوارش خوش تر است      دایه اش سیلاب و موجش مادر است  
سیلاب مانند ..... است .      موج مانند ..... است .



۹- هم معنی کلمه هایی که زیر آن ها خط کشیده شده است را بنویسید.

تا که از خواب ، شیر شد بیدار      متغیر (.....) ز موش بد رفتار

موش بیچاره در هراس (.....) افتاد      گریه کرد و به التماس افتاد

که تا شاه وحوشی و من موش      موش هیچ هست پیش شاه وحوش (.....)

۱۰- معنی بیت زیر را بنویسید .

وحی آمد : "کاین چه فکر باطل است ؟      رهروما، اینک اندر منزل است

۱۱- هر یک از کلمات زیر کوتاه شده ی (مخفف) کدام کلمه هستند ؟

کاین : .....      گر : .....      کای : .....      به : .....

## مرور فصل ۵ ریاضی پایه چهارم ابتدایی

مدت زمان مورد نیاز: ۳۰ دقیقه

تاریخ انجام: / / ۱۴۰۵

نام و نام خانوادگی:

نام آموزگار:



دلبندم به سوالات زیر با دقت پاسخ دهید.

۱- در هر قسمت مقدارهای خواسته شده را بنویسید.

سه عدد بین ۴ و ۵ بنویسید. چهار عدد بین ۱۰ و ۱۱ بنویسید.

۲- هر عدد را به صورت یک عدد اعشاری بنویسید.

۹ تا ۰/۱ ..... ۳۰ تا ۰/۱ .....  $\frac{۸}{۱۰}$  .....  $\frac{۱}{۱۰}$  ..... ۵

۳- اعداد زیر را کوچک به بزرگ مرتب کرده و بنویسید.

$\frac{۸}{۱۰}$      $\frac{۷}{۲}$      $\frac{۴}{۶}$      $\frac{۱}{۸}$      $\frac{۱}{۵}$      $\frac{۱}{۱۰}$      $\frac{۱}{۲}$      $\frac{۸}{۱۰}$

..... < ..... < ..... < ..... < ..... < .....

۴- جاهای خالی را با عدد مناسب کامل کنید.

الف) عدد ۱ نشان دهنده‌ی چند تا ۰/۱ است؟ .....

ب) عدد ۲ نشان دهنده‌ی چند تا ۰/۱ است؟ .....

ج) ..... سانتی متر یعنی ۲۷ میلی متر یا ..... تا ۰/۱ سانتی متر

د)  $\frac{۸}{۴}$  سانتی متر یعنی ..... میلی متر یا ..... تا ۰/۱ سانتی متر

۵- اعداد مخلوط زیر را ابتدا به اعداد اعشاری تبدیل کرده و سپس آنها را روی محور نشان دهید.

$$\boxed{1\frac{۳}{۵}} = \boxed{\phantom{00}}$$


$$\boxed{2\frac{۱}{۲}} = \boxed{\phantom{00}}$$



۶- به کمک محور حاصل جمع و تفریق زیر را به دست آورید.



۷- مجموع سه عدد ۵۵ می باشد. اگر عدد اول  $\frac{14}{2}$  و عدد دوم  $\frac{21}{3}$  باشد. عدد سوم چند است؟



۸- حاصل جمع و تفریق زیر را به صورت کسر و اعشاری بنویسید.

$$\frac{3}{5} - \frac{1}{10} =$$

$$/ - / = /$$

$$\frac{1}{2} + \frac{3}{10} =$$

$$/ + / = /$$

۹- در عدد زیر، کدام رقم بیشترین و کدام رقم کمترین ارزش مکانی را دارد؟

۷۳۹/۲

کمترین ارزش مکانی:

بیشترین ارزش مکانی:

۱۰- حاصل عبارت زیر را به دست آورید.

$$(\frac{14}{2} - \frac{10}{9}) + \frac{8}{2} =$$

مرور درس ۱۰ و ۱۱ و ۱۲ هدیه‌های آسمان پایه چهارم ابتدایی

نام و نام خانوادگی :

مدت زمان مورد نیاز : ۳۰ دقیقه

نام آموزگار :

تاریخ انجام : / / ۱۴۰۵



دلبندم به سوالات زیر با دقت پاسخ دهید .



۱- حضرت محمد(ص) به چه لقبی در بین مردم مشهور بود؟ چرا؟

.....



۲- اولین پیام خدا به پیامبر چه بود ؟

.....

۳- معنای بیت «تو اول بگو با کیان زیستی پس آنکه بگویم که تو کیستی» چیست؟

.....

۴- ویژگی های انسان های خوب و مؤمن در ارتباط دوستانه با یکدیگر را بیان کنید.



.....

۵- وقتی امام زمان (عج) ظهور کند، چه تغییری در جهان مشاهده می کنیم؟



.....

۶- آخرین پیامبر و آخرین دین و آخرین کتاب الهی چه نام دارند؟

.....

۷- چرا بعد از به زبان آوردن نام حضرت مهدی میگوییم «عَجَلَ اللَّهُ فَرَجَهُ»؟

.....

۸- حضرت مهدی (عج ا..) چه هدیه هایی با خود می آورد ؟ سه مورد



۹- چند مورد از مشکلات مردم به خصوص کودکان سراسر دنیا را بیان کنید.

۱۰- با توجه به جملات صحیح یا غلط بودن آن‌ها را مشخص کنید.

- ❖ صفات انسان به مرور زمان شبیه دوستانش می‌شود.  درست  نادرست
- ❖ پیامبر (ص) هر روز سال در غار حرا به عبادت می پرداختند.  درست  نادرست
- ❖ دوستی در فضای مجازی هیچ آسیب و خطری ندارد.  درست  نادرست
- ❖ تاکنون هیچ شخصی وعده‌ی آمدن امام زمان (عج) را نداده است.  درست  نادرست

۱۱- در جاهای خالی کلمات مناسب بنویسید.

- ❖ امام زمان (عج الله) امام ..... ما شیعیان می باشند .
- ❖ غاری که حضرت محمد(ص) در آن به عبادت مشغول بودند ..... نام داشت .
- ❖ سلام کردن به دوستان باعث ..... محبت به آنها می‌شود.
- ❖ موعود از القاب حضرت مهدی (عج الله) به معنای ..... است.
- ❖ اولین مردی که به پیامبر (ص) ایمان آوردند ، ..... بودند.
- ❖ به شبی که حضرت محمد(ص) به پیامبری برگزیده شدند شب ..... می‌گویند.

مرور درس ۱۰۹ علوم تجربی پایه چهارم ابتدایی

نام و نام خانوادگی :

مدت زمان مورد نیاز : ۴۰ دقیقه

نام آموزگار :


تاریخ انجام : / / ۱۴۰۵



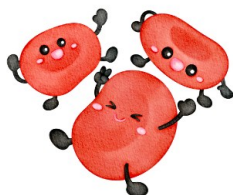
دلبندم به سوالات زیر با دقت پاسخ دهید .

۱- سلول چیست؟

شکل یک سلول را رسم کرده و قسمت های مختلف آن را روی شکل نشان دهید .

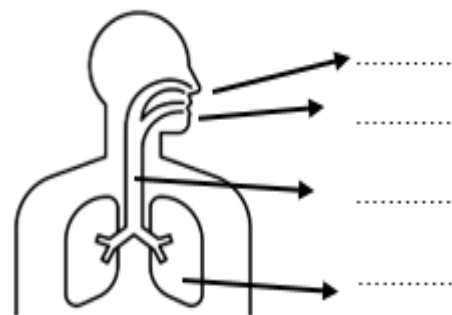
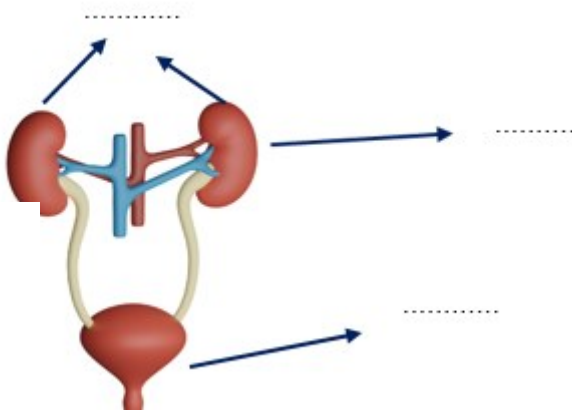


۲- نام دستگاه روبه رو و کار آن را بنویسید.



۳- کار گلبول های (گویچه) قرمز خون چیست؟

۴- در شکل های زیر نام هر قسمت را بنویسید .





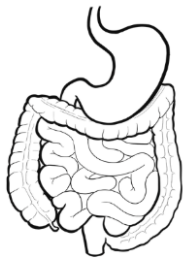
۵- به سوالات زیر پاسخ کوتاه دهید.

❖ اندام‌های تنفسی بدن را نام ببرید.

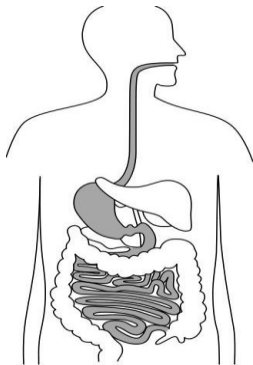
❖ سیاهرگ چیست؟

❖ کار مهم سرخرگ را بنویسید.

❖ نقش معده در گوارش چیست؟



۶- وقتی غذایی را می‌خوریم برای آن چه اتفاقی می‌افتد؟ مرحله به مرحله توضیح دهید.



۷- گزینه صحیح را در سوالات زیر با علامت × مشخص کنید.

- کدام اندام زیر نقش مهمی در گوارش غذا ندارد؟

الف) دهان      ب) مری      ج) معده      د) روده ی باریک

- کدام یک از سلول های زیر به جذب غذا کمک می کنند؟

الف) روده      ب) عصب      ج) ماهیچه      د) استخوان

- کدام یک جزو دستگاه دفع ادرار نمی باشد؟

الف) میزنای      ب) مثانه      ج) معده      د) کلیه

- از کدام اندام در بدن فقط یک عدد وجود دارد؟

الف) شش      ب) کلیه      ج) مثانه      د) میزنای

- کدام یک وظیفه ی خون نیست؟

الف) تبدیل غذا به ذره های بسیار کوچک      ب) اکسیژن رسانی به سلول ها

ج) دور کردن دی اکسید کربن از سلول ها      د) دفاع از بدن در برابر میکروب ها



مدت زمان مورد نیاز: ۳۰ دقیقه

تاریخ انجام: / / ۱۴۰۵

نام و نام خانوادگی:

نام آموزگار:



دلبندم به سوالات زیر با دقت پاسخ دهید.

۱- به نظر شما دیدار خویشاوندان چه فایده‌ای دارد؟ دو مورد



۲- چه کارهای پسندیده‌ای در دیدار با خویشاوندان انجام می‌دهید؟ دو مورد بنویسید.



۳- امام علی (ع) در مورد نیکی به دیگران چه می‌فرماید؟



۴- نمونه‌هایی از نیکی‌هایی را که انجام داده‌اید بیان کنید. (سه مورد)

۵- خداوند چه نعمت‌هایی به حضرت خدیجه (س) داده بود؟

۶- پیامبر اکرم (ص) درباره‌ی حضرت خدیجه (س) چه می‌فرماید؟

۷- از کار خلبان قهرمان، شهید عباس بابایی در کودکی چه آموختید؟



۸- آیا برای کمک به دیگران همیشه باید منتظر باشیم تا آنها از ما کمک بخواهند؟

۹- در جاهای خالی کلمات مناسب بنویسید.

- ❖ برترین ..... کمک به دیگران است .
- ❖ شهید عباس بابایی در کودکی بسیار ..... بودند .
- ❖ وقتی به دیدار خویشاوندان می‌رویم، دل‌های ما به هم نزدیک و قهرها به ..... تبدیل می‌شود.
- ❖ حضرت خدیجه(س) برخلاف سایر مردم مگه ..... را می‌پرستید.
- ❖ هر کس به دیدار خویشاوندان برود ، خدا به او پاداش ..... می‌دهد.
- ❖ بهترین روز برای دیدار خویشاوندان ، روز ..... می‌باشد.

۱۰- با توجه به جملات صحیح یا غلط بودن آنها را مشخص کنید.

- ❖ حضرت خدیجه(س) یکی از ثروتمندترین زنان مگه بودند .  
 درست    نادرست
- ❖ باید همیشه داوطلبانه به کمک و یاری دیگران برویم.  
 درست    نادرست
- ❖ در دیدار خویشاوندان بهتر است برایشان هدیه ببریم .  
 درست    نادرست
- ❖ صله‌ی رحم انسان را شاداب می‌کند.  
 درست    نادرست
- ❖ پیامبر و یارانش دو سال در محاصره‌ی دشمنان از آب و غذا محروم بودند درست    نادرست

مرور فصل ششم ریاضی پایه چهارم ابتدایی


نام و نام خانوادگی :  
نام آموزگار :

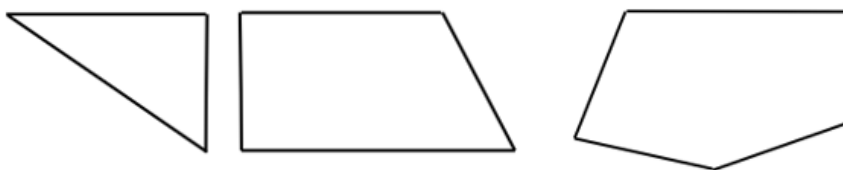
مدت زمان مورد نیاز: ۳۰ دقیقه  
تاریخ انجام: / / ۱۴۰۵



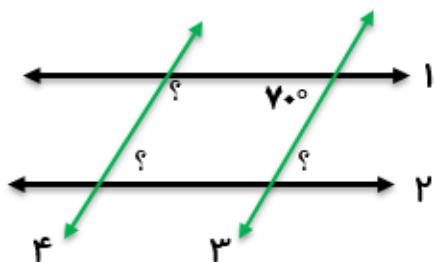
دلبندم به سوالات زیر با دقت پاسخ دهید .

۱- جاهای خالی را با کلمات مناسب کامل کنید.

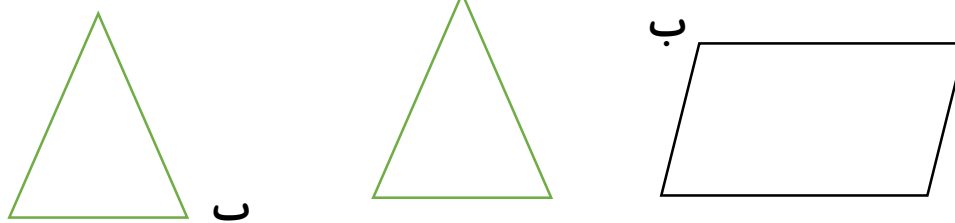
- ❖ به ضلعی که ارتفاع بر آن عمود می شود ..... می گویند.
  - ❖ در هر متوازی الاضلاع ضلع های روبرو باهم ..... و ..... هستند.
  - ❖ هر متوازی اضلاع ..... ارتفاع و هر مثلث ..... ارتفاع دارد.
  - ❖ به هر چهارضلعی که فقط دو ضلع موازی داشته باشد . ..... می گویند.
  - ❖ در مستطیل ضلع های روبرو باهم ..... هستند و زاویه ها ..... درجه هستند .
- ۲- با استفاده از گونیا در شکل های زیر زاویه های راست را با علامت  مشخص کنید .



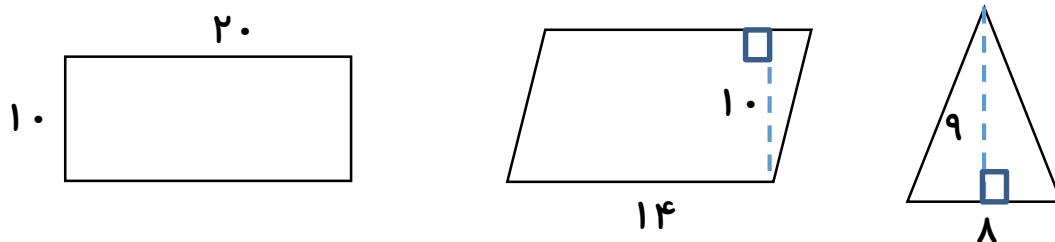
۳- در شکل زیر خط های (۱) و (۲) با هم و خط های (۳) و (۴) با هم موازی هستند. اندازه ی زاویه های خواسته شده را بنویسید .



۴- ارتفاع مثلث های زیر را از راس (ب) رسم کنید.




۵- مساحت شکل های زیر را به دست آورید. (همه ی اندازه ها به سانتی متر است.)



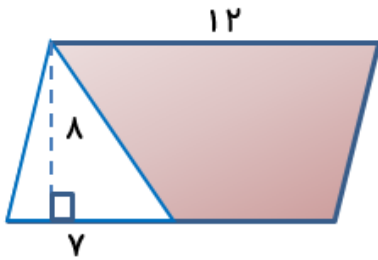
۶- مساحت متوازی الاضلاعی ۱۲۰۰ سانتی متر مربع است .  
اگر ارتفاع آن ۳۰ باشد ، قاعده آن چند سانتی متر است ؟



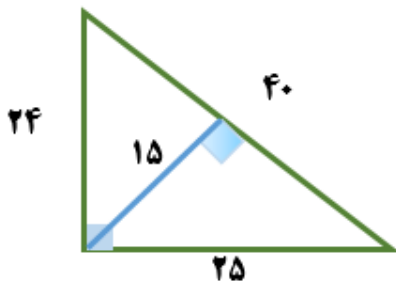
۷- با استفاده از گونیا از نقطه ( ب ) بر خط ( م ) عمود رسم کنید .



۸- مساحت قسمت رنگی را به دست آورید .



۹- مساحت شکل زیر را از دو طریق حساب کنید .



۱۰- مساحت مربعی به طول  $\frac{3}{5}$  متر چند سانتی متر مربع است ؟



۱۱- مساحت مستطیلی به طول  $\frac{3}{2}$  متر و عرض ۹۰ سانتی متر چند سانتی متر مربع است ؟



## مرور درس ۱۶ و ۱۷ فارسی پایه چهارم ابتدایی

مدت زمان مورد نیاز: ۴۰ دقیقه  
تاریخ انجام: / / ۱۴۰۵

نام و نام خانوادگی :  
نام آموزگار:



دلبندم به سوالات زیر با دقت پاسخ دهید .

۱- مترادف هر کلمه را بنویسید .

معلق : ..... جاهل : ..... بُرنا : ..... گریزان : ..... دلنشین : ..... بی بُر : .....

۲- مورد خواسته شده را در مقابل هر کلمه بنویسید .

جهل	← مخالف	.....	کشف	← هم خانواده	.....	موجود	← جمع	.....
منتقل	← هم خانواده	.....	قاضی	← هم خانواده	.....	مجازی	← مخالف	.....

۳- با توجه به شعر خرد و دانش به سوالات زیر پاسخ دهید.

❖ ابیات زیر را کامل کنید.

به دانش فزای و به یزدان گرای

بیاموز و بشنو زهر دانشی

❖ منظور از رامش در مصراع «بیابی زهر دانشی رامشی» چیست؟ .....

❖ با توجه به مصراع به بی دانشان بر ببايد گريست چرا بايد به حال کسانی که دانش ندارند

گريه کرد؟ .....

❖ چرا شاعر فرد بی دانش را مانند تن مرده می داند؟ .....

❖ این شعر زیبا اثر چیست؟ .....

۴- جاهای خالی را با کلمات مناسب پر کنید .

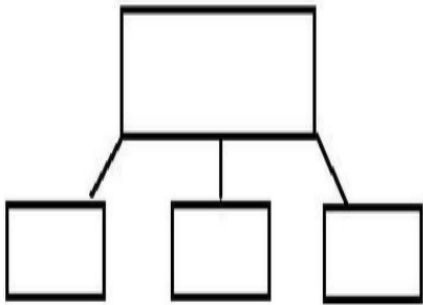
به کسی که می دود ..... می گویند.

به کسی که چیزی می بافد ..... می گویند.

به کسی که چیزی می نوازد ..... می گویند .



۵- با توجه به جمله‌ی « سهیل کتاب‌ها را از دوستش گرفت . »



نمودار زیر را کامل کنید و به سؤالات پاسخ دهید.

این جمله از چند قسمت تشکیل شده است؟ .....

اصلی‌ترین قسمت جمله کدام است؟ .....

کدام قسمت را در بالای نمودار قرار دادید؟ ..... چرا؟

۶- معنی بیت زیر را بنویسید.

خدایا در زبان من صواب آر      دعای بنده‌ی خود مستجاب آر

۷- گزینه صحیح را در سوالات زیر با علامت × مشخص کنید.

در کدام یک از گزینه‌های زیر برای این که معنی جمله کامل شود، به یک قسمت دیگر نیاز دارد؟

شما پسر خوبی هستید.       پیرزن گرفت.

من او را به مدرسه بردم.       آموزگارم همیشه در حال تلاش است.

الهی نامه اثر کدام شاعر بزرگ ایرانی است؟

مولوی       فردوسی       عطّارنیشابوری       مولوی

با توجه به شعر خرد و دانش ، بیکاری نتیجه‌ی چیست؟

بی‌دانشی       تنبلی       بی‌حوصلگی       خستگی

۸- با توجه به موضوع و شرایط داده شده انشایی زیبا (شامل پنج بند) در یک کاغذ جداگانه بنویسید.

موضوع : دیدار خویشاوندان (صله‌ی رحم)

ابتدا بند مقدمه را بنویسید.

برای موضوع کلی «کتاب» سه موضوع کوچک تر بنویسید تا موضوع هر یک از سه بند بعدی متن

باشد.

در پایان ،بند نتیجه گیری را بنویسید .

مرور درس ۱۲ و ۱۳ علوم تجربی پایه چهارم ابتدایی

نام و نام خانوادگی :  
نام آموزگار:

مدت زمان مورد نیاز: ۴۰ دقیقه  
تاریخ انجام: / / ۱۴۰۵



دلبندم به سوالات زیر با دقت پاسخ دهید .

۱- یک گل از چه قسمت هایی تشکیل شده است؟ نام ببرید .


.....

۲- به چه گیاهانی تک لپه و به چه گیاهانی دو لپه گفته می شود؟ بامثال توضیح دهید .



.....  
.....

۳- ویژگی برای گیاهان دو لپه ای بنویسید .



.....

۴- تفاوت بین کاج و خزه را بنویسید.



.....

۵- گیاهان بدون دانه بیش تر در کجا رشد می کنند؟

.....

۶- گرده افشانی چیست؟

.....

۷- یک گیاه زیبا در اختیار داریم که ۶ عدد گلبرگ دارد . این گیاه تک لپه است یا دو لپه ؟

چرا؟  
.....



۸- چهار مورد از خصوصیات موجود زنده را بیان کنید.

.....

۹- زنجیره‌ی غذایی چیست؟

.....

۱۰- به چه جانورانی گیاهخواری می‌گویند؟ با مثال توضیح دهید.

.....

۱۱- آیا یک بوستان یا باغچه می‌تواند یک زیستگاه باشد؟ چرا؟

.....

۱۲- فعالیت‌های انسان گاهی به زیستگاه‌های طبیعی آسیب می‌رساند. در هر یک از موارد زیر مشخص کنید که فعالیت مورد نظر چه آسیبی به محیط زیست می‌رساند؟

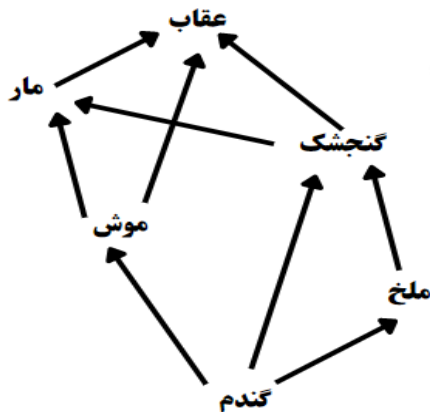
الف) احداث جاده در یک منطقه‌ی جنگلی

.....

ب) احداث یک کارخانه‌ی صنعتی در یک منطقه‌ی ساحلی

.....

۱۳- با توجه به شبکه‌ی غذایی روبه‌رو سه زنجیره‌ی غذایی نام ببرید..



.....

.....

.....



نام و نام خانوادگی :

نام آموزگار:

مدت زمان مورد نیاز: ۴۰ دقیقه

تاریخ انجام: / / ۱۴۰۵



دلبندم به سوالات زیر با دقت پاسخ دهید .


۱- اگر دوستان حرفی را به عنوان راز، نزد ما به امانت بگذارند، می توانیم آن را با شخص دیگری در میان بگذاریم؟ چرا؟



۲- چگونه می توانیم یک امانتدار خوب باشیم؟ دو مورد بنویسید .

۳- آیا می توانیم روی نیمکت مدرسه یادگاری بنویسیم؟ چرا؟

۴- ضرب المثل " یک کلاغ وچهل کلاغ " چه ارتباطی با موضوع امانت داری دارد؟




۵- سخن امام خمینی (ره) را در مورد شغل معلّمی بیان کنید.

۶- چه شباهتی میان کار پیامبران و معلّمان وجود دارد؟

۷- دو مورد از حقوق معلّم بر شاگرد را که در کلام امام چهارم آمده ، بیان کنید .



۸- منظور از دوربین های حساس و دقیق که اعمال ما را زیر نظر دارند چیست؟



۹- تفاوت بین فرشتگان الهی و دوربین های ثبت چیست؟

۱۰- حالا که خدا همه ی کارهای ما را می بیند و فرشتگانش هم ثبت می کنند، وظیفه ی ما چیست؟



۱۱- چرا در روز قیامت چهره ی برخی ناراحت است؟



۱۲- در روز قیامت انسانها چگونه نتیجه ی اعمال خود را می بینند؟

۱۳- از کارهای خوبی که می توانید در مزرعه اعمالتان بکارید مثال بزنید؟ چهارمورد



مرور درس ۱۵ و ۱۶ و ۱۷ و ۱۸ مطالعات اجتماعی پایه چهارم ابتدایی

مدت زمان مورد نیاز: ۴۰ دقیقه  
تاریخ انجام: / / ۱۴۰۵

نام و نام خانوادگی:  
نام آموزگار:



دلبندم به سوالات زیر با دقت پاسخ دهید.

۱- مفاهیم زیر را تعریف کنید.

قله‌ی کوه: .....

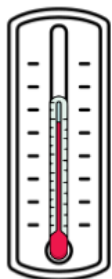
رود: .....

جویبار: .....

آبرفت: .....

دشت: .....

۲- پهناورترین جلگه‌ی ایران چه نام دارد و در کنار کدام دریا قرار دارد؟



.....


۳- نام این وسیله چیست؟ چه کاربردی دارد؟

.....

۴- به چه علت آب و هوای شهر یزد گرم و خشک است؟

.....

۵- دو عامل که مهم ترین نقش را در تعیین آب و هوای یک منطقه دارد را بنویسید.



۶- ناحیه‌ی معتدل و مرطوب خزری در کجا است و چه خصوصیتی دارد؟




۷- پوشش گیاهی ناحیه‌ی خزری چگونه است؟



۸- سواحل جنوب به چه دلیل شرحی است؟

۹- مقدار بارش را در ناحیه‌ی کوهستانی را با ناحیه‌ی خزری مقایسه کنید.



۱۰- چرا شتر در شن های نرم و ریز بیابان فرو نمی‌رود؟

۱۱- در ناحیه‌ی کوهستانی رویش گیاهان چگونه است؟ مثال بزنید.

۱۲- جاهای خالی را کامل کنید.

- وسیع ترین ناحیه آب و هوایی ایران ناحیه ..... می باشد .
- عضوی است که شتر در آن غذا و آب را ذخیره می‌کند.
- جانورانی مانند بزکوهی . گوزن در ناحیه‌ی ..... زندگی می‌کنند.
- در سواحل جنوب مقدار بارش کم است ، به همین دلیل این ناحیه جزء ..... نواحی است .
- در تابستان هوا ..... و در فصل ..... هوا سرد است .
- هنگام صبح و شب هوا ..... و در هنگام ظهر ..... است.
- شهر رامسر آب و هوای ..... دارد.

مرور درس ۱۹ و ۲۰ و ۲۱ و ۲۲ مطالعات اجتماعی پایه چهارم ابتدایی

مدت زمان مورد نیاز: ۴۰ دقیقه  
تاریخ انجام: / / ۱۴۰۵

نام و نام خانوادگی :  
نام آموزگار:



دلبندم به سوالات زیر با دقت پاسخ دهید .

۱- مفاهیم زیر را تعریف کنید.

زیستگاه : .....

گیاهخوار : .....

گوشتخوار : .....

۲- چرا در بعضی از فصل ها شکار جانوران یا صید ماهی در بعضی جاها ممنوع است؟



۳- کدام فعالیت انسان باعث از بین رفتن محیط زیست می شود ؟ دو مورد

۴- فواید گیاهان را بنویسید . ( دو مورد)



۵- نشانه های مشترک ملت ایران را نام ببرید؟

۶- آخرین روز هفته در ایران چه روزی است و مردم در این روز چه کارهایی انجام می دهند ؟

۷- سال ایرانی چگونه آغاز می‌شود و چه زمانی به پایان می‌رسد؟



۸- روزهای تعطیل در ایران به چند دسته تقسیم می‌شوند؟

نام ببرید و برای هر کدام دو مثال بزنید.



۹- در کدام کشورهای همسایه ایران مراسم نوروز برپا می‌شود؟

۱۰- در چه مراسمی پرچم جمهوری اسلامی ایران را بالا می‌برند؟ دو مورد.

۱۱- درستی یا نادرستی عبارتهای زیر را مشخص کنید.

- ❖ روز پیروزی انقلاب اسلامی از روزهای تعطیل ملی است.       درست       نادرست
- ❖ عید قربان از روزهای تعطیل و مناسبت های ملی است.       درست       نادرست
- ❖ پرچم یکی از نشانه های مشترک مردم ایران است.       درست       نادرست
- ❖ ببر و شیر دو جانور گوشت خوار می‌باشند.       درست       نادرست

۱۲- جاهای خالی را با کلمات مناسب کامل کنید.

- یکی از عوامل از بین رفتن جنگلها و موجودات زنده ..... است .
- هر موجود زنده‌ای در ناحیه‌ی خاصی زندگی می‌کند که ..... آن موجود نام دارد.
- به جانورانی که جانوران دیگر را می‌خورند ، ..... می‌گویند.
- امام خمینی ( ره) حدود صد سال پیش در شهرستان ..... متولد شدند .
- روز تاسوعا و عاشورا از تعطیلات ..... در ایران است.
- ماه تیر و مرداد هر کدام ..... روز دارند.

مرور فصل ۷ ریاضی پایه چهارم ابتدایی

مدت زمان مورد نیاز: ۴۰ دقیقه  
تاریخ انجام: / / ۱۴۰۵

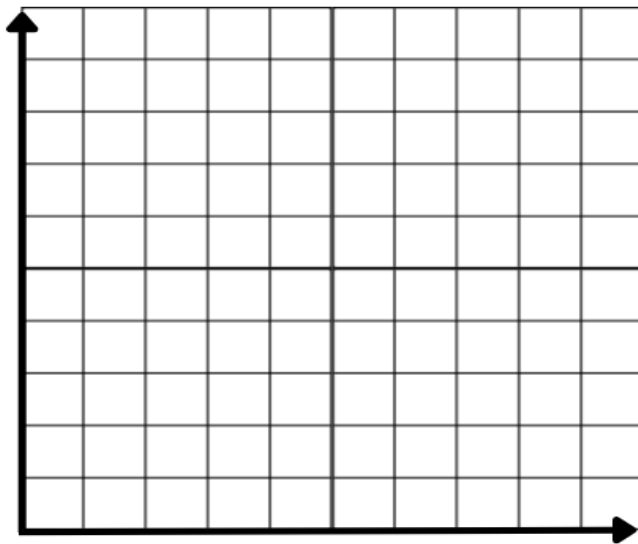
نام و نام خانوادگی :  
نام آموزگار:



۱- دانش آموزان کلاس چهارم برای کتابخانه‌ی کلاس خود از منزل به عنوان هدیه کتابهایی آوردند. تعداد کتاب های هدیه داده شده در جدول زیر نشان داده می‌شود. با توجه به جدول به سوالات پاسخ دهید.

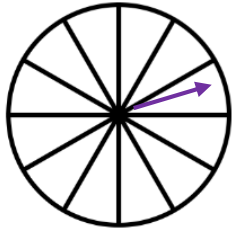
علی	بردیا	محسن	سبحان	امیرعلی	شایان	سامیار	پارسا
۱۰	۳	۹	۷	۳	۵	۶	۹

- الف) چه کسی بیشترین کتاب را هدیه آورده است؟
- ب) چه کسی کمترین کتاب را آورده است؟
- ج) سامیار و بردیا روی هم چند کتاب به کتابخانه‌ی کلاس هدیه کرده‌اند؟
- د) چه کسی ۷ کتاب به کتابخانه هدیه کرده است؟
- هـ) نمودار خط شکسته آن را رسم کنید.
- ی) روی هم چند کتاب به کتابخانه هدیه داده اند؟



- ۲- در یک کیسه ۵ مهره‌ی زرد، ۸ مهره‌ی سبز و ۴ مهره‌ی قرمز است. اگر بدون نگاه کردن از داخل کیسه مهره‌ای از آن بیرون آوریم:
- الف) احتمال بیرون آمدن کدام رنگ بیشتر است؟ چرا؟
  - ب) احتمال بیرون آمدن کدام رنگ کمتر است؟ چرا؟

۳- چرخنده‌ی زیر را با رنگ‌های زرد، قرمز و سبز، طوری رنگ کنید تا احتمال قرار گرفتن عقربه روی رنگ سبز، بیشتر از همه و روی رنگ قرمز، کمتر از همه باشد.




۴- برای هر یک از عبارات های زیر یک مثال بزنید .

به احتمال بیشتر اتفاق بیفتد .

به طور حتم اتفاق نمی‌افتد .

۵- برای هر یک از موارد زیر یکی از عبارات های زیر را استفاده کنید.



به طور حتم اتفاق می‌افتد - به احتمال کم تر اتفاق می‌افتد -  
 به احتمال بیش تر اتفاق می‌افتد - به احتمال برابر اتفاق می‌افتد  
 به طور حتم اتفاق نمی‌افتد

- دو خط موازی را ادامه بدهیم تا یکدیگر را قطع کنند

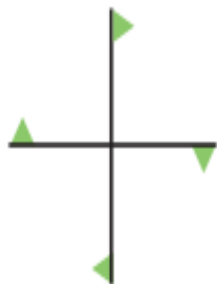
- زاویه های ۴۰ و ۷۰ و ۱۲۰ و ۱۳۰ یک چهارضلعی بسازند.

- گردش زمین به دور خورشید ۳۶۸ روز طول بکشد.

- یک تاس بندازیم و عدد زوج بیاید .

- یک تاس بندازیم و عددی که بر ۳ بخش پذیر است بیاید .

۶- هر یک از شکل‌های زیر، باید چند درجه بچرخند تا دوباره روی خودشان بیفتند؟



.....

.....